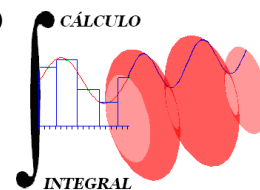




UNIVERSIDAD NACIONAL AUTÓNOMA DE MÉXICO
FACULTAD DE INGENIERÍA
DIVISIÓN DE CIENCIAS BÁSICAS



CÁLCULO INTEGRAL
PRIMER EXAMEN EXTRAORDINARIO
1221

*Sinodales: M.E.M. Enrique Arenas Sánchez
Ing. Sergio Carlos Crail Corzas*

Alumno: _____

Semestre 2018-1

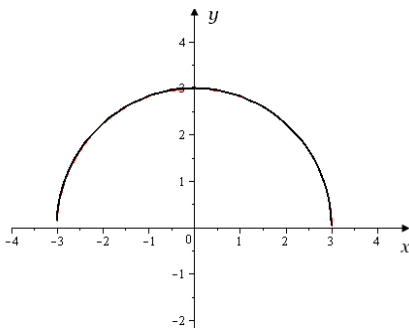
INSTRUCCIONES: Leer cuidadosamente los enunciados de los **6 reactivos** que componen el examen antes de empezar a resolverlos. La duración máxima del examen es de **2 horas**.

1. Determina el intervalo de convergencia de la serie expresado por:

$$\sum_{n=1}^{\infty} \frac{(x+2)^n}{3^n}$$

15 puntos

2. Determina el valor medio de la función cuya gráfica es



en el intervalo $[-3, 3]$.

10 puntos

3. Determina si la siguiente integral converge o diverge.

$$\int_{-\infty}^0 e^{e^x + x} dx$$

10 puntos

4. Efectúa

$$a) \int \frac{x \operatorname{arcsen}(x)}{\sqrt{1-x^2}} dx \quad b) \int \frac{x^3 - x + 3}{x^2 + x - 2} dx \quad c) \int e^x \sqrt{1 - e^{2x}} dx$$

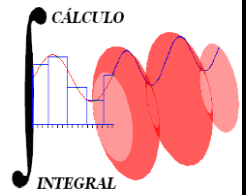
30 puntos

5. Calcula la longitud de la curva dada por $x = e^{-t} \cos t$, $y = e^{-t} \operatorname{sen} t$ en donde $t \in [0, \ln 2]$

15 puntos

6. Calcula la derivada direccional de la función $f(x, y, z) = e^x + \operatorname{sen} hy + \ln z$ en el punto $(0, 0, 1)$ y en la dirección del vector que forma un ángulo de 45° con el eje X, y de 60° con el eje Y.

20 puntos



1. Determinar el intervalo de convergencia de la serie expresada por:

$$\sum_{n=1}^{\infty} \frac{(x+2)^n}{3^n}$$

Sea

$$r = \frac{(x+2)^{n+1}}{3^{n+1}} = \frac{(x+2)^{n+1} 3^n}{(x+2)^n 3^{n+1}} = \frac{x+2}{3}$$

$$\lim_{n \rightarrow \infty} r = \frac{x+2}{3} = \rho \quad \text{si } |\rho| < 1, \text{ de donde}$$

$$-5 < x < 1$$

Análisis de los extremos

Si $x = -5$

$$\sum_{n=1}^{\infty} \frac{(-3)^n}{3^n} = \sum_{n=1}^{\infty} (-1)^n$$

que es divergente, según el criterio de Leibniz

si $x = 1$

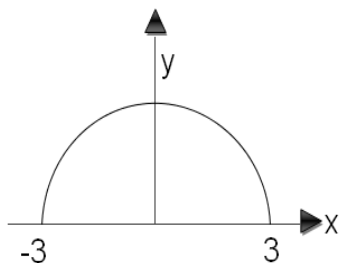
$$\sum_{n=1}^{\infty} \frac{3^n}{3^n} = \sum_{n=1}^{\infty} 1$$

que es divergente

Por lo que el intervalo es $\boxed{-5 < x < -1}$

10 puntos

2. Determinar el valor medio de la función $f(x) = \sqrt{9 - x^2}$ en el intervalo $[-3, 3]$



$$f(c) = \frac{\int_a^b f(x) dx}{b - a}$$

$$f(c) = \frac{\int_{-3}^3 (\sqrt{9 - x^2}) dx}{3 - (-3)}$$

$$f(c) = \frac{\frac{\pi(3)^2}{2}}{6} = \frac{\frac{9}{2}\pi}{6} = \frac{9}{12}\pi$$

$$f(c) = \frac{3}{4}\pi$$

Resultado

$$f(c) = \frac{3}{4}\pi$$

15 puntos

3. Determinar si la integral converge o diverge $\int_{-\infty}^0 e^{e^x+x} dx$

$$I = \int_{-\infty}^0 (e^{e^x+x}) dx = \lim_{b \rightarrow -\infty} \int_b^0 (e^{e^x+x}) dx$$

$$\int (e^{e^x} e^x) dx = \left(\begin{array}{l} u = e^x \\ du = e^x dx \end{array} \right) = \int e^u du = e^{e^x} + C$$

$$I = \lim_{b \rightarrow -\infty} e^{e^x} \Big|_b^0 = \lim_{b \rightarrow -\infty} e - e^{e^b} = e - 1 \quad \text{CONVERGE}$$

Respuesta

La integral impropia converge

10 puntos

4. Efectúa

$$a) \int \frac{x \operatorname{angsen}(x)}{\sqrt{1-x^2}} dx = I$$

$$u = \operatorname{angsen}(x) \quad du = \frac{1}{\sqrt{1-x^2}} dx$$

$$dv = \frac{x}{\sqrt{1-x^2}} dx \quad v = -\sqrt{1-x^2}$$

$$I = -\sqrt{1-x^2} \operatorname{angsen}(x) + \int \frac{\sqrt{1-x^2}}{\sqrt{1-x^2}} dx = -\sqrt{1-x^2} \operatorname{angsen}(x) + x + C$$

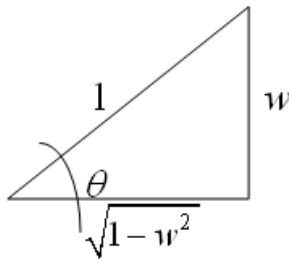
Resultado

$$I = -\sqrt{1-x^2} \operatorname{angsen}(x) + x + C$$

$$b) \int e^x \sqrt{1-e^{2x}} dx = I \quad \text{Cambio de variable y por sustitución trigonométrica}$$

$$\text{Si } w = e^x \rightarrow dw = e^x dx$$

$$I = \int \sqrt{1-w^2} dw$$



$$\begin{aligned} \operatorname{sen}\theta &= w \\ \cos\theta &= \sqrt{1-w^2} \\ \tan\theta &= \frac{w}{\sqrt{1-w^2}} \end{aligned}$$

$$dw = \cos\theta d\theta$$

$$I = \int \cos\theta \cos\theta d\theta = \int \cos^2\theta d\theta = \int \left(\frac{1}{2} + \frac{1}{2}\cos 2\theta \right) d\theta$$

$$I = \frac{\theta}{2} + \frac{\operatorname{sen}2\theta}{4} + C = \frac{\theta}{2} + \frac{\operatorname{sen}\theta \cos\theta}{2} + C$$

$$I = \frac{1}{2} \operatorname{angsen}(e^x) + \frac{e^x \sqrt{1-e^{2x}}}{2} + C$$

Resultado

$$I = \frac{1}{2} \operatorname{angsen}(e^x) + \frac{e^x \sqrt{1-e^{2x}}}{2} + C$$

c) Se efectúa la división y quedan integrales inmediatas

$$I = \int \frac{x^3 - x + 3}{x^2 + x - 2} dx = \int \left(x - 1 + \frac{2x + 1}{x^2 + x - 2} \right) dx$$

$$\begin{array}{r} x-1 \\ x^2+x-2 \overline{) x^3+x^2-x+3} \\ \underline{-x^3-x^2+x} \\ -x^2+x+3 \\ \underline{x^2+x-2} \\ 2x+1 \end{array}$$

$$I = \int x dx - \int dx + \int \frac{2x+1}{x^2+x-2} dx$$

$$I = \frac{x^2}{2} - x + \ln|x^2 + x - 2| + C$$

Resultado

$$I = \frac{x^2}{2} - x + \ln|x^2 + x - 2| + C$$

30 puntos

5. Calcular la longitud de la curva dada por $x = e^{-t} \cos t$, $y = e^{-t} \sin t$ en donde $t \in [0, \ln 2]$

$$S = \int_a^b \sqrt{\left(\frac{dx}{dt}\right)^2 + \left(\frac{dy}{dt}\right)^2} dt$$

$$\frac{dx}{dt} = -e^{-t} \sin t - e^{-t} \cos t \quad \frac{dy}{dt} = e^{-t} \cos t - e^{-t} \sin t$$

$$\frac{dx}{dt} = -e^{-t} (\sin t + \cos t) \quad \frac{dy}{dt} = e^{-t} (\cos t - \sin t)$$

$$\left(\frac{dx}{dt}\right)^2 + \left(\frac{dy}{dt}\right)^2 = e^{-2t} (\sin t + \cos t)^2 + e^{-2t} (\cos t - \sin t)^2 = 2e^{-2t}$$

$$S = \int_0^{\ln 2} \sqrt{2e^{-2t}} dt = \sqrt{2} \int_0^{\ln 2} e^{-t} dt = -\sqrt{2} e^{-t} \Big|_0^{\ln 2}$$

$$S = -\sqrt{2} (e^{-\ln 2} - 1) = -\sqrt{2} \left(\frac{1}{2} - 1\right) = -\sqrt{2} \left(-\frac{1}{2}\right) = \frac{\sqrt{2}}{2}$$

Resultado

$$S = \frac{\sqrt{2}}{2} \text{ unidades de longitud}$$

6. Calcular la derivada direccional de la función $f(x, y, z) = e^x + \operatorname{senhy} + \ln z$ en el punto $(0, 0, 1)$ y en la dirección del vector localizado en el primer octante que forma un ángulo de 45° con el eje X, y de 60° con el eje Y.

$$\left(\frac{df}{ds}\right)_{\bar{u}, P_0} = \nabla f(x_0, y_0, z_0) \cdot \bar{u}$$

$$\nabla f = \left(e^x, \cosh y, \frac{1}{z}\right) \quad \nabla f(0, 0, 1) = (1, 1, 1)$$

$$\bar{u} = (\cos \alpha, \cos \beta, \cos \gamma) = (\cos 45^\circ, \cos 60^\circ, \cos \gamma)$$

De la relación $\cos^2 45^\circ + \cos^2 60^\circ + \cos^2 \gamma = 1$

Se tiene que $\gamma = 60^\circ$ y $\gamma = 120^\circ$

Si $\gamma = 60^\circ$ (la que el alumno elija)

$$\bar{u} = \left(\frac{1}{\sqrt{2}}, \frac{1}{2}, \frac{1}{2}\right)$$

$$\left(\frac{df}{ds}\right)_{P_0} = (1, 1, 1) \cdot \left(\frac{1}{\sqrt{2}}, \frac{1}{2}, \frac{1}{2}\right) = \frac{1}{\sqrt{2}} + \frac{1}{2} + \frac{1}{2} = \boxed{\frac{1 + \sqrt{2}}{\sqrt{2}}}$$

Resultado

$$\left(\frac{df}{ds}\right)_{P_0} = \boxed{\frac{1 + \sqrt{2}}{\sqrt{2}}}$$

Si $\gamma = 120^\circ$ (la que el alumno elija)

$$\bar{u} = \left(\frac{1}{\sqrt{2}}, \frac{1}{2}, -\frac{1}{2}\right)$$

$$\left(\frac{df}{ds}\right)_{P_0} = (1, 1, 1) \cdot \left(\frac{1}{\sqrt{2}}, \frac{1}{2}, -\frac{1}{2}\right) = \frac{1}{\sqrt{2}} + \frac{1}{2} - \frac{1}{2} = \boxed{\frac{1}{\sqrt{2}}}$$

Resultado

$$\left(\frac{df}{ds}\right)_{P_0} = \boxed{\frac{1}{\sqrt{2}}}$$

20 puntos